

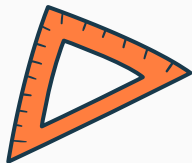


Arvude võrdlemine





1

Õige väite valimine



2

Tehete järjekord



3

Sobiva märgi valimine



4

Lihtsamad tekstülesanded



5

Koguse võrdlemine





Kumb väide on õige?

Mardipäev on 10.
novembril

Mardipäev on 25.
novembril

Kumba on koguselt rohkem?



Kumb arv on tehtena suurem?

$$(10-8) + 2$$

$$(7+5) - 6$$

Kumb väide on vale?

Kadripäev on 25.
novembril

Kadripäev on 10.
novembril

Vali sobiv märk

November___31 päeva

<

=

>

Vali kummas on rohkem raha?



Kui Jüri saab mardipäeval 15 kommi, aga Johanna saab 13 kommi, siis kummal on **rohkem** komme?

Jüri



Johanna

Kumb väide on õige?

Mardipäev on enne
kadripäeva

Kadripäev on enne
mardipäeva

Kumba on koguselt vähem?



Kumb arv on tehtena suurem?

$$(20+5) - 5$$

$$(15-5) + 7$$

Vali sobiv märk

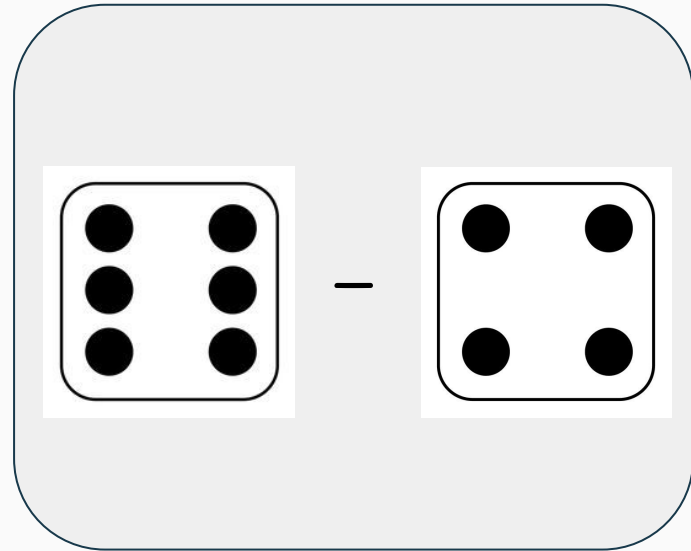
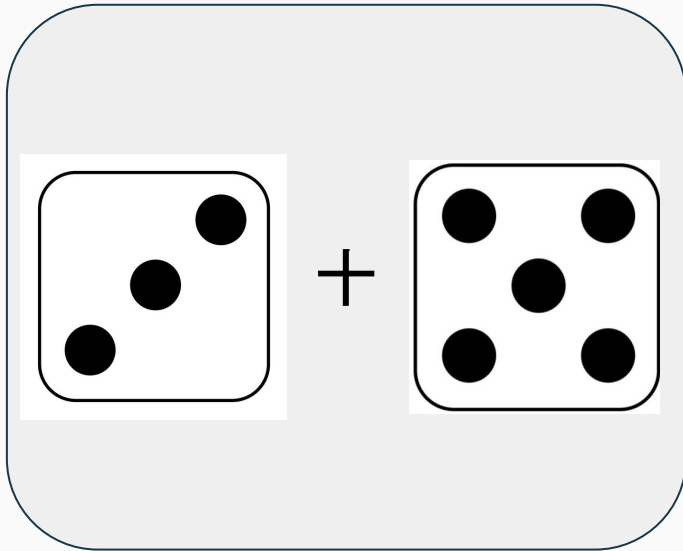
1 ööpäev ___ 24 tundi

<

=

>

Kumb arv on suurem?



Kumb väide on õige?

Mardipäeva ja
kadripäeva vahel on
15 päeva

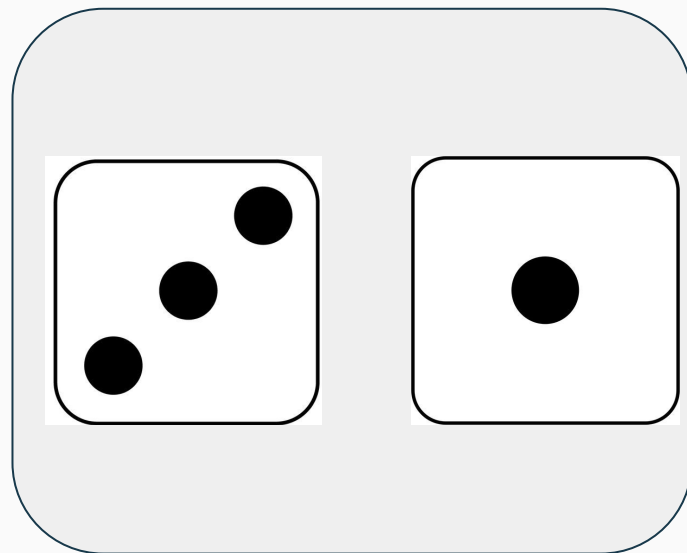
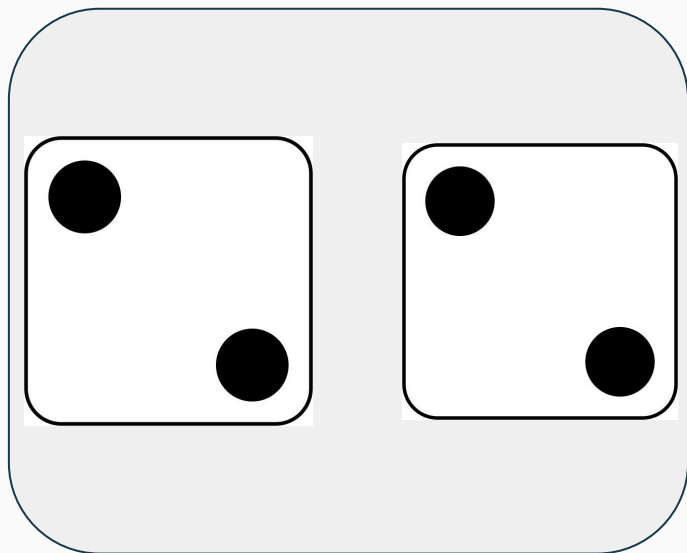
Mardipäeva ja
kadripäeva vahel on
10 päeva

Kumb arv on suurem?

35

32

Kumma vahele paneksid võrdusmärgi?




Kumb arv on tehtena väiksem?

$$(12+3) - 5$$

$$(20-5) + 5$$

Kumb on suurem? Või hoopis võrdsed?



Kui Mari saab kadripäeval 5 mandariini, aga Hanna saab 7, siis kummal on **vähem** mandariine?

Maril

Hannal

Vali sobiv märk

4__9

<

=

>

Kumb on õige?



>



<



Vali sobiv märk

15___11

<

=

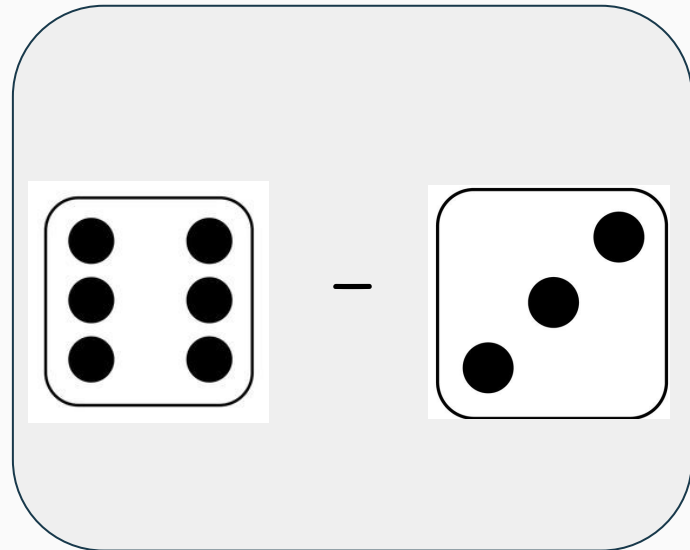
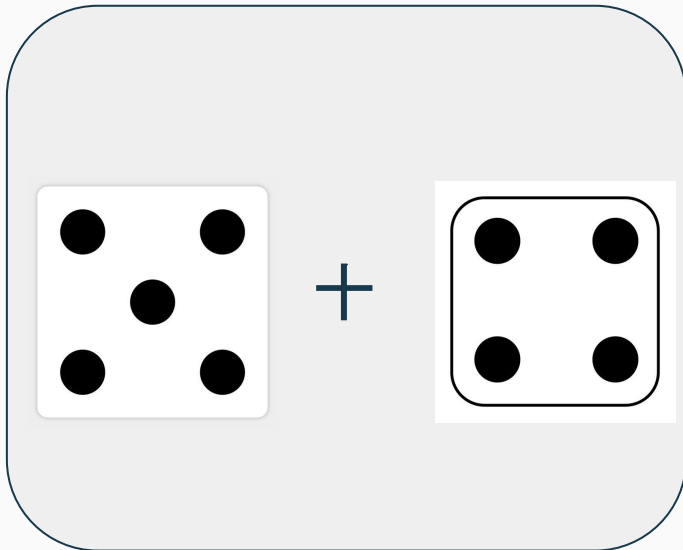
>

Kumb arv on tehtena suurem?



$$(10+4) - 6$$

$$(20-2) + 4$$

Kumb arv on väiksem?



Kumba on koguselt vähem?



Vali sobiv märk
1 aasta ___ 12 kuud

<

=

>

Kui Liisa on 5-aastane ja Kristjan 9-aastane,
siis kumb on **vanem**?

Liisa

Kristjan

Järjesta tegelased vanuse järjekorras



Tõnu on
50-aastane



Toomas on
20-aastane



Kaarel on
68-aastane

Kumb arv on väiksem?

25

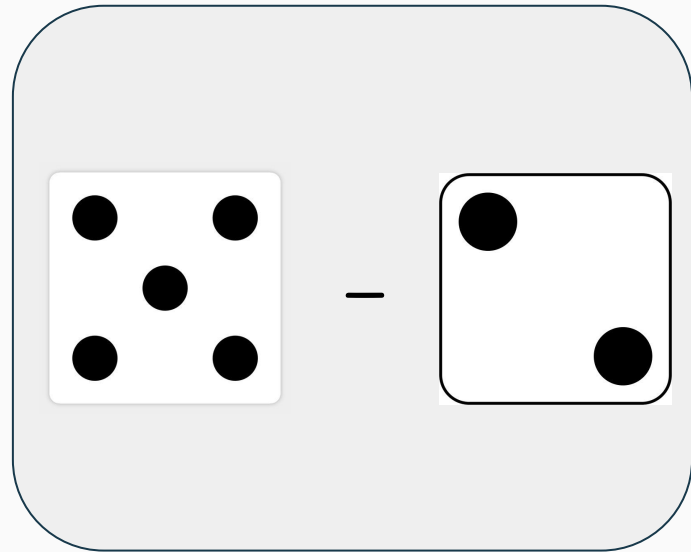
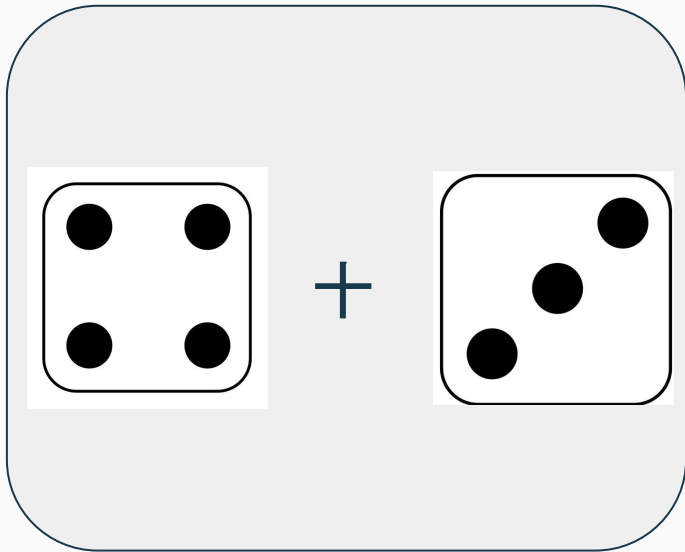
10

Kumb on tehtena väiksem?

$$(14-3) + 2$$

$$(16+2) - 3$$

Kumb arv on suurem?



Vali sobiv märk

13___15

<

=

>

Kumb on tehtena suurem?

$$(3+8) - 4$$

$$(5-3) + 6$$